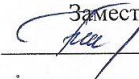


РАССМОТРЕНО
На заседании ШМС
Протокол № 1
от «29» 08. 2022 г.

СОГЛАСОВАНО
Заместитель директора по УВР
 Н.Е.Михайлова

УТВЕРЖДАЮ
Директор МБОУ «СОШ №6»
 И.А. Никифорова
Приказ № 116
от «31» 08. 2022 г.



**Рабочая программа по предмету «Физика»
для 10-11 классов на 2022-2023/ 2023-2024 учебные годы**

Лениногорск, 2022

Пояснительная записка.

Рабочая программа по физике (профильный уровень) составлена на основе:

- Основной образовательной программы ООО МБОУ СОШ №6 г. Лениногорска МО «ЛМР» РТ
- Учебного плана МБОУ СОШ №6 г. Лениногорска МО «ЛМР» РТ
- Примерной программы по физике 10-11 классы (стандарты второго поколения)
- Федерального перечня учебников, утвержденного Минобрнауки (приказ №254 от 20.05.2020)
- Годового календарного учебного плана.

Планируемые результаты

Личностные результаты в сфере отношений обучающихся к себе, к своему здоровью, к познанию себя:

- ориентация обучающихся на достижение личного счастья, реализацию позитивных жизненных перспектив, инициативность, креативность, готовность и способность к личностному самоопределению, способность ставить цели и строить жизненные планы;
- готовность и способность обеспечить себе и своим близким достойную жизнь в процессе самостоятельной, творческой и ответственной деятельности;
- готовность и способность обучающихся к отстаиванию личного достоинства, собственного мнения, готовность и способность вырабатывать собственную позицию по отношению к общественно-политическим событиям прошлого и настоящего на основе осознания и осмысления истории, духовных ценностей и достижений нашей страны;
- готовность и способность обучающихся к саморазвитию и самовоспитанию в соответствии с общечеловеческими ценностями и идеалами гражданского общества, потребность в физическом самосовершенствовании, занятиях спортивно-оздоровительной деятельностью;
- принятие и реализация ценностей здорового и безопасного образа жизни, бережное, ответственное и компетентное отношение к собственному физическому и психологическому здоровью;
- неприятие вредных привычек: курения, употребления алкоголя, наркотиков.

Личностные результаты в сфере отношений обучающихся к России как к Родине (Отечеству):

- российская идентичность, способность к осознанию российской идентичности в поликультурном социуме, чувство причастности к историко-культурной общности российского народа и судьбе России, патриотизм, готовность к служению Отечеству, его защите;
- уважение к своему народу, чувство ответственности перед Родиной, гордости за свой край, свою Родину, прошлое и настоящее многонационального народа России, уважение к государственным символам (герб, флаг, гимн);
- формирование уважения к русскому языку как государственному языку Российской Федерации, являющемуся основой российской идентичности и главным фактором национального самоопределения;
- воспитание уважения к культуре, языкам, традициям и обычаям народов, проживающих в Российской Федерации.

Личностные результаты в сфере отношений обучающихся к закону, государству и к гражданскому обществу:

- гражданственность, гражданская позиция активного и ответственного члена российского общества, осознающего свои конституционные права и обязанности, уважающего закон и правопорядок, осознанно принимающего традиционные национальные и общечеловеческие гуманистические и демократические ценности, готового к участию в общественной жизни;
- признание неотчуждаемости основных прав и свобод человека, которые принадлежат каждому от рождения, готовность к осуществлению собственных прав и свобод без нарушения прав и свобод других лиц, готовность отстаивать собственные права и свободы человека и

гражданина согласно общепризнанным принципам и нормам международного права и в соответствии с Конституцией Российской Федерации, правовая и политическая грамотность;

- мировоззрение, соответствующее современному уровню развития науки и общественной практики, основанное на диалоге культур, а также различных форм общественного сознания, осознание своего места в поликультурном мире;

- интериоризация ценностей демократии и социальной солидарности, готовность к договорному регулированию отношений в группе или социальной организации;

- готовность обучающихся к конструктивному участию в принятии решений, затрагивающих их права и интересы, в том числе в различных формах общественной самоорганизации, самоуправления, общественно значимой деятельности;

- приверженность идеям интернационализма, дружбы, равенства, взаимопомощи народов; воспитание уважительного отношения к национальному дост

- оинству людей, их чувствам, религиозным убеждениям;

- готовность обучающихся противостоять идеологии экстремизма, национализма, ксенофобии; коррупции; дискриминации по социальным, религиозным, расовым, национальным признакам и другим негативным социальным явлениям.

Личностные результаты в сфере отношений обучающихся с окружающими людьми:

- нравственное сознание и поведение на основе усвоения общечеловеческих ценностей, толерантного сознания и поведения в поликультурном мире, готовности и способности вести диалог с другими людьми, достигать в нем взаимопонимания, находить общие цели и сотрудничать для их достижения;

- принятие гуманистических ценностей, осознанное, уважительное и доброжелательное отношение к другому человеку, его мнению, мировоззрению;

- способность к сопереживанию и формирование позитивного отношения к людям, в том числе к лицам с ограниченными возможностями здоровья и инвалидам; бережное, ответственное и компетентное отношение к физическому и психологическому здоровью других людей, умение оказывать первую помощь;

- формирование выраженной в поведении нравственной позиции, в том числе способности к сознательному выбору добра, нравственного сознания и поведения на основе усвоения общечеловеческих ценностей и нравственных чувств (чести, долга, справедливости, милосердия и дружелюбия);

- развитие компетенций сотрудничества со сверстниками, детьми младшего возраста, взрослыми в образовательной, общественно полезной, учебно-исследовательской, проектной и других видах деятельности.

Личностные результаты в сфере отношений обучающихся к окружающему миру, живой природе, художественной культуре:

- мировоззрение, соответствующее современному уровню развития науки, значимости науки, готовность к научно-техническому творчеству, владение достоверной информацией о передовых достижениях и открытиях мировой и отечественной науки, заинтересованность в научных знаниях об устройстве мира и общества;

- готовность и способность к образованию, в том числе самообразованию, на протяжении всей жизни; сознательное отношение к непрерывному образованию как условию успешной профессиональной и общественной деятельности;

- экологическая культура, бережное отношения к родной земле, природным богатствам России и мира; понимание влияния социально-экономических процессов на состояние природной и социальной среды, ответственность за состояние природных ресурсов; умения и навыки разумного природопользования, нетерпимое отношение к действиям, приносящим вред экологии; приобретение опыта эколого-направленной деятельности;

- эстетическое отношения к миру, готовность к эстетическому обустройству собственного быта.

Личностные результаты в сфере отношений обучающихся к семье и родителям, в том числе подготовка к семейной жизни:

- ответственное отношение к созданию семьи на основе осознанного принятия ценностей семейной жизни;

– положительный образ семьи, родительства (отцовства и материнства), интериоризация традиционных семейных ценностей.

Личностные результаты в сфере отношения обучающихся к труду, в сфере социально-экономических отношений:

- уважение ко всем формам собственности, готовность к защите своей собственности,
- осознанный выбор будущей профессии как путь и способ реализации собственных жизненных планов;
- готовность обучающихся к трудовой профессиональной деятельности как к возможности участия в решении личных, общественных, государственных, общенациональных проблем;
- потребность трудиться, уважение к труду и людям труда, трудовым достижениям, добросовестное, ответственное и творческое отношение к разным видам трудовой деятельности;
- готовность к самообслуживанию, включая обучение и выполнение домашних обязанностей.

Личностные результаты в сфере физического, психологического, социального и академического благополучия обучающихся:

– физическое, эмоционально-психологическое, социальное благополучие обучающихся в жизни образовательной организации, ощущение детьми безопасности и психологического комфорта, информационной безопасности.

Метапредметные результаты освоения основной образовательной программы представлены тремя группами универсальных учебных действий (УУД).

1. Регулятивные универсальные учебные действия

Выпускник научится:

- самостоятельно определять цели, задавать параметры и критерии, по которым можно определить, что цель достигнута;
- оценивать возможные последствия достижения поставленной цели в деятельности, собственной жизни и жизни окружающих людей, основываясь на соображениях этики и морали;
- ставить и формулировать собственные задачи в образовательной деятельности и жизненных ситуациях;
- оценивать ресурсы, в том числе время и другие нематериальные ресурсы, необходимые для достижения поставленной цели;
- выбирать путь достижения цели, планировать решение поставленных задач, оптимизируя материальные и нематериальные затраты;
- организовывать эффективный поиск ресурсов, необходимых для достижения поставленной цели;
- сопоставлять полученный результат деятельности с поставленной заранее целью.

2. Познавательные универсальные учебные действия

Выпускник научится:

- искать и находить обобщенные способы решения задач, в том числе, осуществлять развернутый информационный поиск и ставить на его основе новые (учебные и познавательные) задачи;
- критически оценивать и интерпретировать информацию с разных позиций, распознавать и фиксировать противоречия в информационных источниках;
- использовать различные модельно-схематические средства для представления существенных связей и отношений, а также противоречий, выявленных в информационных источниках;
- находить и приводить критические аргументы в отношении действий и суждений другого; спокойно и разумно относиться к критическим замечаниям в отношении собственного суждения, рассматривать их как ресурс собственного развития;

- выходить за рамки учебного предмета и осуществлять целенаправленный поиск возможностей для широкого переноса средств и способов действия;
- выстраивать индивидуальную образовательную траекторию, учитывая ограничения со стороны других участников и ресурсные ограничения;
- менять и удерживать разные позиции в познавательной деятельности.

3. Коммуникативные универсальные учебные действия

Выпускник научится:

- осуществлять деловую коммуникацию как со сверстниками, так и со взрослыми (как внутри образовательной организации, так и за ее пределами), подбирать партнеров для деловой коммуникации исходя из соображений результативности взаимодействия, а не личных симпатий;
- при осуществлении групповой работы быть как руководителем, так и членом команды в разных ролях (генератор идей, критик, исполнитель, выступающий, эксперт и т.д.);
- координировать и выполнять работу в условиях реального, виртуального и комбинированного взаимодействия;
- развернуто, логично и точно излагать свою точку зрения с использованием адекватных (устных и письменных) языковых средств;
- распознавать конфликтогенные ситуации и предотвращать конфликты до их активной фазы, выстраивать деловую и образовательную коммуникацию, избегая личностных оценочных суждений.

Предметные результаты:

Выпускник на углубленном уровне научится:

- объяснять и анализировать роль и место физики в формировании современной научной картины мира, в развитии современной техники и технологий, в практической деятельности людей;
- характеризовать взаимосвязь между физикой и другими естественными науками;
- характеризовать системную связь между основополагающими научными понятиями: пространство, время, материя (вещество, поле), движение, сила, энергия;
- понимать и объяснять целостность физической теории, различать границы ее применимости и место в ряду других физических теорий;
- владеть приемами построения теоретических доказательств, а также прогнозирования особенностей протекания физических явлений и процессов на основе полученных теоретических выводов и доказательств;
- самостоятельно конструировать экспериментальные установки для проверки выдвинутых гипотез, рассчитывать абсолютную и относительную погрешности;
- самостоятельно планировать и проводить физические эксперименты;
- решать практико-ориентированные качественные и расчетные физические задачи с опорой как на известные физические законы, закономерности и модели, так и на тексты с избыточной информацией;
- объяснять границы применения изученных физических моделей при решении физических и межпредметных задач;
- выдвигать гипотезы на основе знания основополагающих физических закономерностей и законов;
- характеризовать глобальные проблемы, стоящие перед человечеством: энергетические, сырьевые, экологические, и роль физики в решении этих проблем;
- объяснять принципы работы и характеристики изученных машин, приборов и технических устройств;
- объяснять условия применения физических моделей при решении физических задач, находить адекватную предложенной задаче физическую модель, разрешать проблему как на основе имеющихся знаний, так и при помощи методов оценки.

Выпускник на углубленном уровне получит возможность научиться:

- проверять экспериментальными средствами выдвинутые гипотезы, формулируя цель исследования, на основе знания основополагающих физических закономерностей и законов;
- описывать и анализировать полученную в результате проведенных физических экспериментов информацию, определять ее достоверность;
- понимать и объяснять системную связь между основополагающими научными понятиями: пространство, время, материя (вещество, поле), движение, сила, энергия;
- решать экспериментальные, качественные и количественные задачи олимпиадного уровня сложности, используя физические законы, а также уравнения, связывающие физические величины;
- анализировать границы применимости физических законов, понимать всеобщий характер фундаментальных законов и ограниченность использования частных законов;
- формулировать и решать новые задачи, возникающие в ходе учебно-исследовательской и проектной деятельности;
- усовершенствовать приборы и методы исследования в соответствии с поставленной задачей;
- использовать методы математического моделирования, в том числе простейшие статистические методы для обработки результатов эксперимента.

Содержание учебного предмета

Электродинамика. Магнитное поле. Вектор магнитной индукции. Принцип суперпозиции магнитных полей. Магнитное поле проводника с током. Действие магнитного поля на проводник с током и движущуюся заряженную частицу. Сила Ампера и сила Лоренца. Поток вектора магнитной индукции. Явление электромагнитной индукции. Закон электромагнитной индукции. ЭДС индукции в движущихся проводниках. Правило Ленца. Явление самоиндукции. Индуктивность. Энергия электромагнитного поля. Магнитные свойства вещества.

Электромагнитные колебания. Колебательный контур. Свободные электромагнитные колебания. Вынужденные электромагнитные колебания. Резонанс. Переменный ток. Конденсатор и катушка в цепи переменного тока. Производство, передача и потребление электрической энергии. Элементарная теория трансформатора.

Электромагнитное поле. Вихревое электрическое поле. Электромагнитные волны. Свойства электромагнитных волн. Диапазоны электромагнитных излучений и их практическое применение. Принципы радиосвязи и телевидения.

Геометрическая оптика. Прямолинейное распространение света в однородной среде. Законы отражения и преломления света. Полное внутреннее отражение. Оптические приборы.

Волновые свойства света. Скорость света. Интерференция света. Когерентность. Дифракция света. Поляризация света. Дисперсия света. Практическое применение электромагнитных излучений.

Основы специальной теории относительности

Инвариантность модуля скорости света в вакууме. Принцип относительности Эйнштейна. Пространство и время в специальной теории относительности. Энергия и импульс свободной частицы. Связь массы и энергии свободной частицы. Энергия покоя.

Квантовая физика. Физика атома и атомного ядра

Предмет и задачи квантовой физики.

Тепловое излучение. Распределение энергии в спектре абсолютно черного тела.

Гипотеза М. Планка о квантах. Фотоэффект. Опыты А.Г. Столетова, законы фотоэффекта. Уравнение А. Эйнштейна для фотоэффекта.

Фотон. Опыты П.Н. Лебедева и С.И. Вавилова. Гипотеза Л. де Бройля о волновых свойствах частиц. Корпускулярно-волновой дуализм. Дифракция электронов. Давление света. Соотношение неопределенностей Гейзенберга.

Модели строения атома. Объяснение линейчатого спектра водорода на основе квантовых постулатов Н. Бора. Спонтанное и вынужденное излучение света.

Состав и строение атомного ядра. Изотопы. Ядерные силы. Дефект массы и энергия связи ядра.

Закон радиоактивного распада. Ядерные реакции, реакции деления и синтеза. Цепная реакция деления ядер. Ядерная энергетика. Термоядерный синтез.

Элементарные частицы. Фундаментальные взаимодействия. Ускорители элементарных частиц.

Строение Вселенной. Применимость законов физики для объяснения природы космических объектов. Солнечная система. Звезды и источники их энергии. Классификация звезд. Эволюция Солнца и звезд.

Галактика. Другие галактики. Пространственно-временные масштабы наблюдаемой Вселенной. Представление об эволюции Вселенной. Темная материя и темная энергия.

Примерный перечень практических и лабораторных работ (на выбор учителя)

Прямые измерения:

- измерение силы взаимодействия катушки с током и магнита помощью электронных весов;
- определение периода обращения двойных звезд (печатные материалы).

Косвенные измерения:

- измерение напряженности вихревого электрического поля (при наблюдении электромагнитной индукции);
- определение показателя преломления среды;
- измерение фокусного расстояния собирающей и рассеивающей линз;
- определение длины световой волны;
- определение импульса и энергии частицы при движении в магнитном поле (по фотографиям).

Наблюдение явлений:

- наблюдение вынужденных колебаний и резонанса;
- наблюдение волновых свойств света: дифракция, интерференция, поляризация;
- наблюдение спектров;
- вечерние наблюдения звезд, Луны и планет в телескоп или бинокль.

Исследования:

- исследование явления электромагнитной индукции;
- исследование зависимости угла преломления от угла падения;
- исследование зависимости расстояния от линзы до изображения от расстояния от линзы до предмета;
- исследование спектра водорода;
- исследование движения двойных звезд (по печатным материалам).

Проверка гипотез (в том числе имеются неверные):

- напряжение при последовательном включении лампочки и резистора не равно сумме напряжений на лампочке и резисторе;
- угол преломления прямо пропорционален углу падения;
- при плотном сложении двух линз оптические силы складываются;

Конструирование технических устройств:

- конструирование электродвигателя;
- конструирование трансформатора;
- конструирование модели телескопа или микроскопа.

Тематическое планирование.

Основное содержание	Количество часов, отведенных на изучение				
	10 класс	11 класс	Всего по плану	По факту	Изменения
Физика как наука методы научного познания природы	4	2	6	6	
Механика	62	4	60	66	Из резерва 4ч.
Молекулярная физика	37		34	37	Из резерва 3ч
Электростатика. Постоянный ток	40		38	40	Из резерва 2ч
Магнитное поле		20	20	20	
Электромагнитные колебания и волны		55	55	55	
Квантовые явления		34	34	34	
Строение Вселенной		8	8	8	
Физпрактикум	20	20	40	40	
Обобщающее повторение	12	10	20	22	Из резерва 2ч
Резерв свободного учебного времени		17	30	17	
Всего	175	170	345	345	

Критерии оценивания работ по физике.

Критерии и нормы оценки знаний обучающихся Контроль предполагает выявление уровня освоения учебного материала при изучении, как отдельных разделов, так и всего курса астрономии в целом.

Для устных ответов определяются следующие критерии оценок:

Оценка «5» ставится в том случае, если учащийся

- показывает верное понимание физической сущности рассматриваемых явлений и закономерностей, законов и теорий.
- дает точное определение и истолкование основных понятий, законов, теорий, а также правильное определение астрономических величин, из единиц и способов измерения.
- правильно выполняет чертежи, схемы и графики, сопровождает рассказ новыми примерами.
- строит ответ по собственному плану, сопровождает рассказ новыми примерами, умеет применить знания в новой ситуации при выполнении практических заданий.
- может установить связь между изучаемым и ранее изученным материалом по курсу астрономии, а также с материалом, усвоенным при изучении других предметов

Оценка «4» ставится, если ответ ученика удовлетворяет основным требованиям к ответу на оценку «5», но дан без использования собственного плана, новых примеров.

- Без применения новых знаний в новой ситуации.

- Без использования связей с ранее изученным материалом и материалом, усвоенным при изучении других предметов.

- Если учащийся допустил одну ошибку или не более двух недочетов и может их исправить самостоятельно или с небольшой помощью учителя

Оценка «3» ставится, если учащийся

- Правильно понимает физическую сущность рассматриваемых явлений и закономерностей, но в ответе имеются отдельные пробелы в усвоении вопросов курса астрономии, но препятствующие дальнейшему усвоению программного материала.

- Умеет применять полученные знания при решении простых задач с использованием готовых формул, но затрудняется при решении задач, требующих преобразования некоторых формул.

- Допустил не более одной грубой ошибки и двух недочетов, не более одной грубой и одной негрубой ошибки, не более двух-трех негрубых ошибок, одной негрубой ошибки и трех недочетов.

- Допустил четыре или пять недочетов.

Оценка письменных контрольных работ

Оценка «5» Ставится за работу, выполненную полностью без ошибок и недочетов.

Оценка «4» Ставится за работу, выполненную полностью, но при наличии в ней не более одной негрубой ошибки и одного недочета, не более трех недочетов.

Оценка «3» Ставится, если ученик правильно выполнил не менее 2/3 всей работы или допустил не более одной грубой ошибки и двух недочетов, не более одной грубой и одной негрубой ошибки, не более трех негрубых ошибок, одной негрубой ошибки и трех недочетов, при наличии четырех-пяти недочетов.

Оценка практических работ

Оценка «5» ставится, если учащийся

Выполняет работу в полном объеме с соблюдением необходимой последовательности проведения измерений.

Все опыты проводит в условиях и режимах, обеспечивающих получение правильных результатов и выводов.

Соблюдает требования правил техники безопасности

Правильно и аккуратно выполняет все записи, таблицы, рисунки, чертежи, графики, вычисления. Правильно выполняет анализ погрешностей.

Оценка «4» ставится, если выполнены требования к оценке «5», но было допущено 2-3 недочета, не более одной негрубой ошибки и одного недочета.

Оценка «3» ставится, если работа выполнена не полностью, но объем выполненной части таков, что позволяет получить правильный результат и вывод; если в ходе измерения были допущены ошибки.

Негрубые ошибки:

- 1.Неточности формулировок, определений, понятий, законов, теорий, вызванные неполнотой охвата основных признаков определяемого понятия, ошибки, вызванные несоблюдением условий проведения опыта или измерений.

2. Ошибки в условных обозначениях на принципиальных схемах, неточности чертежей, графиков, схем.

- 3.Пропуск или неточное написание наименований единиц астрономических величин.

Недочеты:

1. Арифметические ошибки в вычислениях, если это ошибки грубо не искажают реальность полученного результата.

- 2.Отдельные погрешности в формулировке вопроса или ответа.

- 3.Небрежное выполнение записей, чертежей, схем, графиков.

- 4.Орфографические и пунктуационные ошибки. При тестировании все учащиеся находятся в одинаковых условиях и используют измерительные материалы(тесты).

Оценка результатов ведется по 5-балльной шкале.

- На «5» необходимо выполнить 95% заданий.

- Если выполнено 75 % заданий, работа оценивается оценкой «4».

- Если выполнено 50 % заданий, выставляется «3»;

- Если не выполнено 25% заданий, выставляется «2».

Контрольно-измерительные материалы:

Тема: «Магнитное поле»

I	<p>1. Длина активной части проводника 15 см. Угол между направлением тока и индукцией магнитного поля равен 90°. С какой силой магнитное поле с индукцией 40 мТл действует на проводник, если сила тока в нем 12 А?</p> <p>2. На протон, движущийся со скоростью 10^7 м/с в однородном магнитном поле перпендикулярно линиям индукции, действует сила $0,32 \cdot 10^{-12}$ Н. Какова индукция магнитного поля?</p> <p>3. Определите индуктивность катушки, которую при силе тока 8,6 А пронизывает магнитный поток 0,12 Вб.</p>
II	<p>4. Электрон движется по окружности радиусом 4 мм перпендикулярно к линиям индукции однородного магнитного поля. Скорость электрона равна $3,5 \cdot 10^6$ м/с. Рассчитайте индукцию магнитного поля.</p> <p>5. Плоская прямоугольная катушка из 200 витков со сторонами 10 см и 5 см находится в однородном магнитном поле с индукцией 0,05 Тл. Какой максимальный вращающий момент может действовать на катушку в этом поле, если сила тока в ней 2 А?</p>
III	<p>6. В вертикальном однородном магнитном поле на двух тонких нитях подвешен горизонтально проводник длиной 20 см и массой 20,4 г. Индукция магнитного поля равна 0,5 Тл. На какой угол от вертикали отклонятся нити, если сила тока в проводнике равна 2 А?</p> <p>7. Два протона движутся в однородном магнитном поле в плоскости, перпендикулярной линиям индукции магнитного поля, по окружностям, имеющим радиусы, равные соответственно 1 см и 2 см. Определите отношение кинетических энергий протонов.</p>

Тема: «Электромагнитная индукция»

I	<p>1. Рассчитайте разность потенциалов на концах крыльев самолета, имеющих длину 10 м, если скорость самолета при горизонтальном полете 720 км/ч, а вертикальная составляющая индукции магнитного поля Земли $0,5 \cdot 10^{-4}$ Тл.</p> <p>2. Определите индуктивность катушки, если при ослаблении в ней тока на 2,8 А за 62 мс в катушке появляется средняя ЭДС самоиндукции 14 В.</p>
II	<p>3. В катушке, состоящей из 75 витков, магнитный поток равен $4,8 \cdot 10^{-8}$ Вб. За какое время должен исчезнуть этот поток, чтобы в катушке возникла средняя ЭДС индукции 0,74 В?</p> <p>4. Магнитный поток, пронизывающий замкнутый контур проводника сопротивлением 2,4 Ом, равномерно изменился на 6 Вб за 0,5 с. Какова сила индукционного тока в этот момент?</p>
III	<p>5. По горизонтальным рельсам, расположенным в вертикальном магнитном поле с индукцией 0,01 Тл, скользит проводник длиной 1 м с постоянной скоростью 10 м/с. Концы рельсов замкнуты на резистор сопротивлением 2 Ом. Найдите количество теплоты, которое выделится в резисторе за 4 с. Сопротивлением рельсов и проводника пренебречь.</p> <p>6. Из алюминиевой проволоки сечением 1 мм^2 сделано кольцо радиусом 10 см. Перпендикулярно плоскости кольца за 0,01 с включают магнитное поле с индукцией 0,01 Тл. Найдите среднее значение индукционного тока, возникающего за это время в кольце.</p>

Тема: «Электромагнитные колебания»

I	<p>1. Конденсатор емкостью 250 мкФ включается в сеть переменного тока. Определите емкостное сопротивление конденсатора при частоте 50 Гц.</p> <p>2. Чему равен период собственных колебаний в колебательном контуре, если индуктивность катушки равна 2,5 мГн, а емкость конденсатора 1,5 мкФ?</p> <p>3. Напряжение меняется с течением времени по закону $u = 40\sin(10\pi t + \pi/6)$ В. Определите амплитуду, действующее значение, круговую частоту колебаний и начальную фазу колебаний напряжения.</p>
II	<p>4. Сколько оборотов в минуту должна совершать рамка из 20 витков проволоки размером $0,2 \times 0,4$ м в магнитном поле с индукцией 1 Тл, чтобы амплитуда ЭДС равнялась 500 В?</p> <p>5. Напряжение в цепи изменяется по закону $u = U_m \sin \frac{2\pi}{T} t$, причем амплитуда напряжения 200 В, а период 60 мс. Какое значение принимает напряжение через 10 мс?</p>
III	<p>6. Катушка индуктивностью 75 мГн последовательно с конденсатором включена в сеть переменного тока с напряжением 50 В и частотой 50 Гц. Чему равна емкость конденсатора при резонансе в полученной сети?</p> <p>7. В колебательном контуре конденсатору сообщили заряд 1 мкКл, после чего в контуре возникли затухающие электромагнитные колебания. Какое количество теплоты выделится к моменту, когда максимальное напряжение на конденсаторе станет меньше начального максимального значения в 4 раза? Емкость конденсатора равна 10 мкФ.</p>

Тема: «Геометрическая оптика»

I	<p>1. Рассчитайте, на какой угол отклонится луч света от своего первоначального направления при переходе из воздуха в стекло, если угол падения равен 25°.</p> <p>2. На каком расстоянии от линзы с фокусным расстоянием 40 см надо поместить предмет, чтобы получить действительное изображение на расстоянии 2 м от линзы?</p>
II	<p>3. Рисунок на диапозитиве имеет высоту 2 см, а на экране — 80 см. Определите оптическую силу объектива, если расстояние от объектива до диапозитива равно 20,5 см.</p> <p>4. На плоскопараллельную пластинку, имеющую показатель преломления 1,57, падает луч света под углом 40°. Проходя через пластинку, он смещается на 3 см. Определите толщину пластинки.</p>
III	<p>5. В сосуде с сероуглеродом на глубине 20 см от поверхности расположен точечный источник света. Вычислите площадь круга на поверхности жидкости, в пределах которого возможен выход лучей в воздух. Показатель преломления сероуглерода равен 1,6.</p> <p>6. Точечный источник света помещен на оптической оси собирающей линзы с фокусным расстоянием 0,2 м на расстоянии 50 см от нее. По другую сторону линзы в ее фокальной плоскости помещена рассеивающая линза. Каким должно быть фокусное расстояние рассеивающей линзы, чтобы мнимое изображение в ней источника совпало с самим источником?</p>

1. Две когерентные световые волны приходят в некоторую точку пространства с разностью хода $2,25 \text{ мкм}$. Каков результат интерференции в этой точке, если свет красный ($\lambda = 750 \text{ нм}$)?
2. Разность хода между волнами от двух когерентных источников в воздухе 2 мкм . Найдите разность хода между этими же волнами в воде.
3. Найдите длину волны монохроматического света, если при нормальном падении на дифракционную решетку разность хода волн, образующих максимум третьего порядка, равна $1,35 \text{ мкм}$.

4. Для определения периода дифракционной решетки на нее направили световые лучи с длиной волны 760 нм . Каков период решетки, если на экране, отстоящем от решетки на 1 м , расстояние между максимумами первого порядка равно $15,2 \text{ см}$?

5. Два когерентных источника света S_1 и S_2 (рис. 132) испускают монохроматический свет с длиной волны 600 нм . Рассчитайте, на каком расстоянии от точки O на экране будет первый максимум освещенности, если $OC = 4 \text{ м}$ и $S_1S_2 = 1 \text{ мм}$.

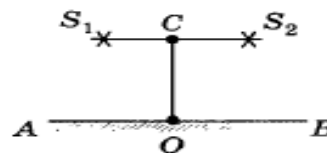
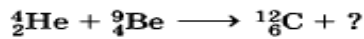


Рис. 132

- | | |
|-----|--|
| I | <ol style="list-style-type: none"> 1. Найдите длину волны света, энергия кванта которого равна $3,6 \cdot 10^{-19} \text{ Дж}$. 2. Красная граница фотоэффекта для вольфрама равна $2,76 \cdot 10^{-7} \text{ м}$. Рассчитайте работу выхода электрона из вольфрама. |
| II | <ol style="list-style-type: none"> 3. Найдите запирающее напряжение для электронов при освещении металла светом с длиной волны 330 нм, если красная граница фотоэффекта для металла 620 нм. 4. Какой длины волны следует направить лучи на поверхность цинка, чтобы максимальная скорость фотоэлектронов была 2000 км/с? Красная граница фотоэффекта для цинка равна $0,35 \text{ мкм}$. |
| III | <ol style="list-style-type: none"> 5. Сколько фотонов видимого света испускает за 1 с электрическая лампочка мощностью 100 Вт, если средняя длина волны излучения 600 нм, а световая отдача лампы $3,3\%$? 6. При облучении ультрафиолетовыми лучами пластинки из никеля запирающее напряжение оказалось равным $3,7 \text{ В}$. При замене пластинки из никеля пластинкой из другого металла запирающее напряжение потребовалось увеличить до 6 В. Определите работу выхода электрона с поверхности этой пластинки. Работа выхода электронов из никеля равна 5 эВ. |

1. Определите число нуклонов, протонов и нейтронов, содержащихся в ядре атома натрия ${}_{11}^{23}\text{Na}$.

2. Допишите ядерную реакцию:



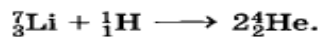
3. Каков дефект массы, энергия связи и удельная энергия связи ядра кислорода ${}^{16}_8\text{O}$?

4. Сколько атомов радиоизотопа церия ${}_{58}^{144}\text{Ce}$ распадается в течение одного года из $4,2 \cdot 10^{18}$ атомов, если период полураспада данного изотопа равен 285 сут?

5. Определите, какой элемент образуется из ${}_{92}^{238}\text{U}$ после одного α -распада и двух β -распадов.

I 6. При делении одного ядра урана ${}_{92}^{235}\text{U}$ на два осколка выделяется 200 МэВ энергии. Какое количество энергии освобождается при сжигании в ядерном реакторе 1 г этого изотопа урана? Какое количество каменного угля необходимо сжечь для получения такого же количества энергии? Удельная теплота сгорания каменного угля равна $2,9 \cdot 10^7$ Дж/кг.

7. Определите энергетический выход следующей ядерной реакции:



8. Период полураспада радиоактивного изотопа хрома ${}_{24}^{51}\text{Cr}$ равен 27,8 сут. Через какое время распадается 80% атомов?